

# BREVET DE TECHNICIEN SUPÉRIEUR

## CONTRÔLE INDUSTRIEL ET RÉGULATION AUTOMATIQUE

### U51 – Analyse physico-chimique d'un procédé et de son environnement

SESSION 2022

*Durée : 3 heures*

*Coefficient : 4*

**Matériel autorisé :**

L'usage de la calculatrice avec mode examen actif est autorisé.

L'usage de la calculatrice sans mémoire, « type collègue » est autorisé.

**Aucun document autorisé.**

**Dès que le sujet vous est remis, assurez-vous qu'il est complet.**

**Le sujet se compose de 15 pages, numérotées de 1/15 à 15/15.**

**Document à rendre avec la copie :**

Document réponse 1

page 15/15.

**S'il apparaît au candidat qu'une donnée est manquante ou erronée, il pourra formuler toutes les hypothèses qu'il jugera nécessaires pour résoudre les questions posées. Il justifiera, alors, clairement et précisément ces hypothèses.**

BTS CONTRÔLE INDUSTRIEL ET RÉGULATION AUTOMATIQUE		Session 2022
Analyse physico-chimique d'un procédé et de son environnement	Code : 22CA51PHC	Page 1/15

Le réacteur (1) est une tour cylindrique fonctionnant sous une pression de 10 bar.

Au sommet de ce réacteur sont introduits à l'aide d'une rampe de pulvérisation : l'acétaldéhyde recyclé provenant de la colonne de rectification (4), et le catalyseur (mis en solution dans l'acétaldéhyde). Le réacteur est alimenté en air comprimé à contre-courant. Les débits des réactifs sont maintenus constants.

La réaction étant exothermique, il faut évacuer l'énergie libérée. Pour cela, une fraction du milieu réactionnel circule au moyen d'une pompe centrifuge, au travers d'un échangeur (2) alimenté en eau, la circulation des fluides s'effectuant à contre-courant.

Le débit du milieu réactionnel recyclé est constant et la température dans le réacteur est régulée par le débit d'eau. Les gaz résiduels sortant du réacteur, entraînant de faibles quantités de produits et de réactifs, sont détendus et introduits dans une colonne de lavage (3).

Les gaz sont lavés à l'eau avant d'être rejetés dans l'atmosphère. La solution récupérée en pied de colonne est recyclée et renvoyée, à l'aide d'une pompe centrifuge, dans le réacteur. Le milieu réactionnel est soutiré du réacteur (1) en fonction du niveau de liquide dans (1) puis envoyé par la pompe (5) dans une colonne de rectification (4). Cette colonne fonctionne sous pression. En tête, on récupère l'éthanal non converti qui est alors recyclé dans (1). En pied, on obtient une fraction riche en acide acétique.

BTS CONTRÔLE INDUSTRIEL ET RÉGULATION AUTOMATIQUE		Session 2022
Analyse physico-chimique d'un procédé et de son environnement	Code : 22CA51PHC	Page 3/15

## Partie B : étude de la circulation du milieu réactionnel entre le réacteur 1 et la colonne 4

### Données :

Accélération de la pesanteur :  $g = 9,8 \text{ m}\cdot\text{s}^{-2}$

Masse volumique du milieu réactionnel :  $850 \text{ kg}\cdot\text{m}^{-3}$

Masse volumique de l'eau :  $1000 \text{ kg}\cdot\text{m}^{-3}$

La solution contenue dans le réacteur (1) est introduite dans la colonne de rectification (4) à l'aide d'une pompe centrifuge (5). La pression absolue de fonctionnement de la colonne est de 12 bar et on rappelle que la pression absolue en sortie de réacteur (1) vaut 10 bar.

La différence d'altitude entre la sortie du réacteur (1) et le niveau d'introduction de la solution dans (4) est de 20 m.

Le diamètre de la tuyauterie entre (1) et (4) sera supposé constant et égal à 25 mm.

Les pertes de charge totales dans la canalisation entre (1) et (4) sont égales à  $6,0 \times 10^4 \text{ Pa}$ . Le débit massique d'introduction de la solution dans la colonne est égal à  $588 \text{ kg}\cdot\text{h}^{-1}$ .

**Q4** - Déterminer la valeur du débit volumique d'introduction de la solution dans la colonne, exprimé en  $\text{m}^3\cdot\text{h}^{-1}$  et en  $\text{m}^3\cdot\text{s}^{-1}$ .

**Q5** - En déduire, en  $\text{m}\cdot\text{s}^{-1}$ , la valeur de la vitesse de circulation de la solution lors de son introduction dans la colonne.

**Q6** - En appliquant le théorème de Bernoulli entre la sortie du réacteur (1) et l'entrée dans la colonne (4), exprimer la hauteur manométrique totale de la pompe (HMT). Vérifier que la valeur de la hauteur manométrique totale de la pompe est 51 mCL.

***Il incombe au candidat de passer le temps nécessaire à l'élaboration de la réponse à la question suivante. La qualité de rédaction, la structuration de l'argumentation et la rigueur des calculs sont valorisées ainsi que les prises d'initiatives même si elles n'aboutissent pas. Il convient donc que celles-ci apparaissent sur la copie.***

Le **document B1** représente le rendement de la pompe en fonction du débit volumique.

**Q7** - Calculer la puissance absorbée par la pompe. Les étapes du raisonnement effectué seront détaillées précisément.

Le **document B2** représente la hauteur manométrique totale (HMT) de différentes pompes en fonction du débit.

**Q8** - En justifiant la réponse, indiquer la pompe la plus adaptée.

BTS CONTRÔLE INDUSTRIEL ET RÉGULATION AUTOMATIQUE		Session 2022
Analyse physico-chimique d'un procédé et de son environnement	Code : 22CA51PHC	Page 5/15

## Partie C : analyse du produit synthétisé.

La fraction riche en acide acétique obtenue en pied de colonne de distillation est une solution aqueuse titrant environ 80 % en masse en acide, de masse volumique  $1,07 \text{ kg}\cdot\text{L}^{-1}$ . Elle peut être commercialisée ainsi ou purifiée pour obtenir de l'acide acétique possédant un titre massique égal à 99,8 %.

Afin de vérifier la valeur du titre massique en acide de la fraction récupérée un technicien effectue les opérations décrites dans le **document C1** et obtient les résultats donnés dans le **document C2**.

Le certificat d'analyse délivré à l'issue de ces opérations stipule que la solution sera commercialisable sous l'appellation « acide acétique 80 % » si le pourcentage massique en acide est compris entre 78 et 82 %.

***Il incombe au candidat de passer le temps nécessaire à l'élaboration de la réponse à la question suivante. La qualité de rédaction, la structuration de l'argumentation et la rigueur des calculs sont valorisées ainsi que les prises d'initiatives même si elles n'aboutissent pas. Il convient donc que celles-ci apparaissent sur la copie.***

**Q9** – À l'aide des **documents C1, C2 et C3**, indiquer si la solution récupérée à l'issue du procédé est commercialisable sous l'appellation « acide acétique 80 % ».

### Document C1 - Protocole d'analyse

- Diluer d'un facteur 100 la solution d'acide acétique isolée en pied de colonne.
- Prélever 10,0 mL de cette solution diluée et les introduire dans un bécher.
- Rincer et remplir une burette avec une solution aqueuse d'hydroxyde de sodium ( $\text{Na}^+(\text{aq}) + \text{HO}^-(\text{aq})$ ) de concentration  $0,100 \text{ mol}\cdot\text{L}^{-1}$ .
- Introduire la sonde de mesure du pH-mètre étalonnée dans le bécher et procéder au titrage, sous agitation.

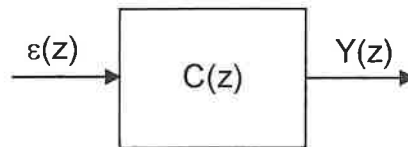
BTS CONTRÔLE INDUSTRIEL ET RÉGULATION AUTOMATIQUE		Session 2022
Analyse physico-chimique d'un procédé et de son environnement	Code : 22CA51PHC	Page 7/15

**Partie D - étude du correcteur numérique.**

Les différentes boucles de régulation utilisent des régulateurs numériques modernes.

La fonction de transfert en z, d'un des correcteurs numériques utilisés est donnée par la relation suivante :

$$C(z) = \frac{Y(z)}{\varepsilon(z)} = K \cdot \left( \frac{1 + \frac{T_e}{T_i} z^{-1}}{1 - z^{-1}} \right)$$

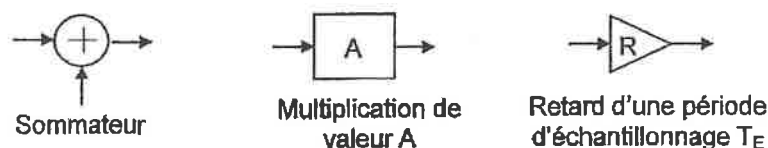


Avec  $\varepsilon(z)$  la transformée en z du signal d'écart (entrée) et  $Y(z)$  celle du signal de sortie.

**Q10** - Montrer que l'équation de récurrence peut se mettre sous la forme :

$$y_n = y_{n-1} + K \cdot \left( 1 + \frac{T_e}{T_i} \right) \cdot \varepsilon_n - K \cdot \varepsilon_{n-1}$$

**Q11** - Représenter la structure de cet algorithme à l'aide des symboles suivants, à partir de l'échantillon d'entrée  $\varepsilon_n$  :



**Q12** - La fréquence d'échantillonnage du régulateur est  $f_e = 9$  Hz, les paramètres du correcteur sont : gain  $K = 2$ , temps d'action intégrale  $T_i = 1$  s. Compléter le **document réponse 1** à rendre avec la copie.

*Il incombe au candidat de passer le temps nécessaire à l'élaboration de la réponse à la question suivante. La qualité de rédaction, la structuration de l'argumentation et la rigueur des calculs sont valorisées ainsi que les prises d'initiatives même si elles n'aboutissent pas. Il convient donc que celles-ci apparaissent sur la copie.*

**Q13** - Le **document D1** représente les enregistrements de 3 réponses indicielles unitaires différentes. En argumentant clairement la réponse, justifier laquelle correspond aux résultats obtenus à la **question Q12** et préciser son type (P, PI ou PID).

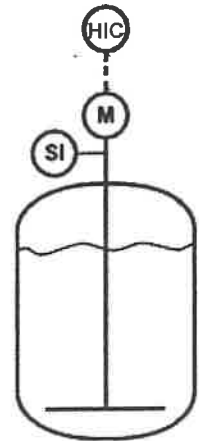
BTS CONTRÔLE INDUSTRIEL ET RÉGULATION AUTOMATIQUE		Session 2022
Analyse physico-chimique d'un procédé et de son environnement	Code : 22CA51PHC	Page 9/15

## Partie E - étude de l'entraînement de l'agitateur

L'agitateur du réacteur est entraîné par un moteur asynchrone équipé d'un réducteur et alimenté par un variateur de vitesse permettant d'ajuster manuellement sa vitesse  $n$ .

La plaque signalétique du moteur comporte les indications suivantes :

4 kW	$\Delta$ 230 V / Y 400 V	1438 tour·min <sup>-1</sup>
cos $\varphi$ = 0,83	$\Delta$ 14,4 A / Y 8,3 A	50 Hz



**Q14** - Justifier le couplage à utiliser, si le variateur de vitesse délivre un réseau triphasé dont la tension efficace entre phases est de 400 V.

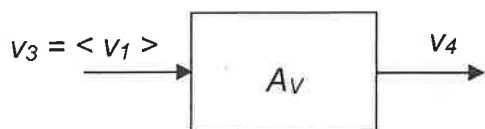
**Q15** - Déterminer le nombre de pôles du moteur et sa vitesse de synchronisme  $n_s$  en tour·min<sup>-1</sup>.

**Q16** - Pour le fonctionnement nominal, calculer :


- le glissement  $g$  en pourcent ;
- la puissance absorbée  $P_a$  ;
- le moment du couple utile  $T_u$  ;
- le rendement du moteur  $\eta$ .


**Q17** - Lorsque le moteur est à son régime nominal, la vitesse de l'agitateur doit être de 63 tour·min<sup>-1</sup>. Calculer le rapport de réduction  $r$  du réducteur.

**Q21** - La tension filtrée  $v_3$  peut être considérée égale à  $\langle v_1 \rangle$ . Celle-ci doit être amplifiée avant d'être traitée pour l'affichage.



On souhaite obtenir :

▪  $\langle v_1 \rangle = 0$  V alors  $v_4 = 0$  V et pour l'affichage  tour·min<sup>-1</sup>

▪ Pour  $n = 63$  tour·min<sup>-1</sup> alors  $v_4 = 6,3$  V et pour l'affichage  tour·min<sup>-1</sup>

Déterminer la valeur qu'il faut donner au coefficient d'amplification  $A_V$ .

DOCUMENT RÉPONSE 1 À RENDRE AVEC LA COPIE

<b>n</b>	<b>-1</b>	<b>0</b>	<b>1</b>	<b>2</b>	<b>3</b>
<b><math>\varepsilon_n</math></b>	<b>0</b>	<b>1</b>	<b>1</b>	<b>1</b>	<b>1</b>
<b><math>y_n</math></b>	<b>0</b>				